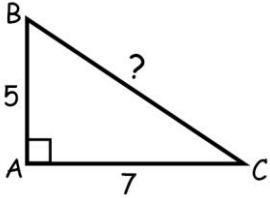


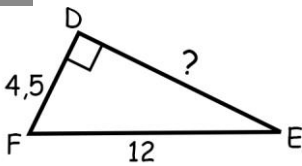
PYTHAGORE FICHE MIROIR 1

Dans chacun des exercices, trouve la longueur manquante, puis arrondis le résultat au dixième près. Tu dois trouver le même résultat que pour la fiche miroir 2.

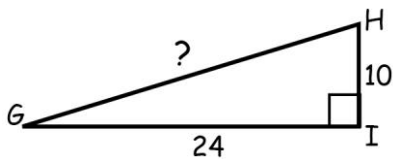
1



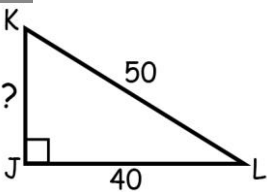
2



3



4



5 Une échelle de 5,6 mètre de long est appuyée contre un bâtiment. Le bas de l'échelle est à 2 mètres du bâtiment. Quelle hauteur atteint le haut de l'échelle sur le mur ?

Réponses

1 8,6

2 11,1

3 26

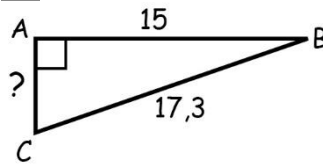
4 30

5 5,2

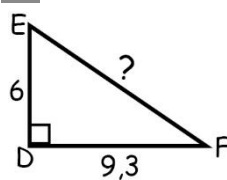
PYTHAGORE FICHE MIROIR 2

Dans chacun des exercices, trouve la longueur manquante, puis arrondis le résultat au dixième près. Tu dois trouver le même résultat que pour la fiche miroir 1.

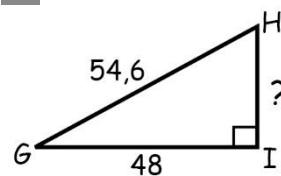
1



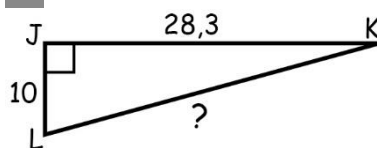
2



3



4



5 Une échelle est appuyée contre un bâtiment. Le bas de l'échelle est à 1,5 m du bâtiment et le haut de l'échelle atteint le mur à une hauteur de 5 mètre. Quelle est la longueur de l'échelle ?

Réponses

1 8,6

2 11,1

3 26

4 30

5 5,2